

TALLER 01 - RECUPERACIÓN DE MATEMÁTICAS

Resuelve en tu cuaderno.



Actividad

1. Utiliza una suma o una resta para calcular el número que falta en cada caso:

$72 + \square = 117$

$400 - \square = 172$

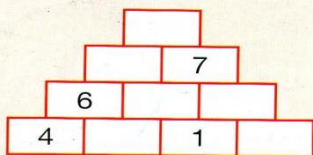

$\square - 47 = 38$

$\square + 128 = 415$


$96 + \square = 224$

$176 - \square = 89$

2. Cada ladrillo es la suma de los dos que están justo debajo de él. Completa:



3. ¿Cuál es la distancia entre Silvania y Tocancipá?



4. Escribe los signos + o - que faltan para que cada igualdad sea verdadera:

$50 \square 20 \square 30 = 40$

$18 \square 15 \square 12 = 15$

$87 \square 15 \square 20 = 52$

$47 \square 12 \square 16 = 43$

5. Resuelve:

2.365×34

579×58

36×59


860×207

1.052×9

71×204

6. Cada caja amarilla pesa 72 kilos. Cada caja verde pesa el doble que una amarilla.

¿Cuánto pesan las 5 cajas?



7. En una ciudad hay unos 800.000 vehículos. Cada uno consume en promedio 25 litros de gasolina al mes.

¿Cuánta gasolina consume esa ciudad en un año?

8. Averigua el valor de cada símbolo:

$\triangle + \circ = 9$

$\star - \hexagon = 1$

$\triangle \times \circ = 18$

$\star \times \hexagon = 42$

$\square + \diamond = 7$

$\bullet - \blacksquare = 2$

$\square \times \diamond = 10$

$\bullet \times \blacksquare = 8$

9. Una rueda tiene 32 cabinas y en cada cabina caben 25 personas.

¿Cuántas personas caben en la rueda?

